

Nome: _____

N.º _____ Turma _____

Data: 19/ 10/ 2018

1. Escreve a leitura dos seguintes números.

474 _____

23 858 _____

89 460 _____

2. Compara os números usando os sinais; >, < ou =.

1 m ___ 10 m

900cm ___ 4m

93640 ___ 04639

7 m ___ 700 cm

4 x 100 ___ 4 x 1000

100 - 25 ___ 225 : 3

3. Completa os exercícios

1 minuto é igual a ___ segundos.

1 hora é igual a ___ minutos.

1 dia é igual a ___ horas.

1 hora e meia é igual a ___ minutos.

72 horas são iguais a ___ dias.


1 semana é igual a ___ dias.

1 mês é igual a ___ ou ___ dias.


1 ano é igual a ___ meses.

O mês de Fevereiro tem ___ ou ___ dias.

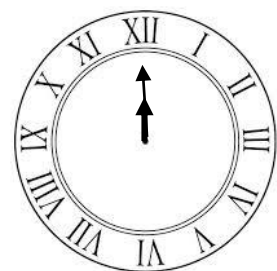
4. Lê e marca as horas nos relógios indicados.



⋮
⋮



9 : 20
21 : 20



⋮
⋮

5. Efectua os cálculos

$$\begin{array}{r} 9782 \\ + 7489 \\ \hline \end{array}$$

$$\begin{array}{r} 10000 \\ - 3500 \\ \hline \end{array}$$

$$\begin{array}{r} 420 \\ \times 5 \\ \hline \end{array}$$

$$\begin{array}{r} 9364 \\ \times 24 \\ \hline \end{array}$$

$$\begin{array}{r|l} 806 & 6 \\ \hline & \end{array}$$

$$\begin{array}{r|l} 4342 & 3 \\ \hline & \end{array}$$

6. Resolve o problema

Um camião saiu de Maputo às 3h e 20 minutos e chegou a Nampula às 15 horas.
Quanto tempo levou de viagem?

Indicação

Operação

$$\text{---} \bigcirc \text{---} = \text{---}$$

R: _____

Bom Trabalho!