

Nome: _____

N.º ____ Turma ____

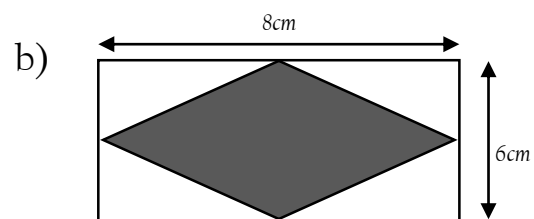
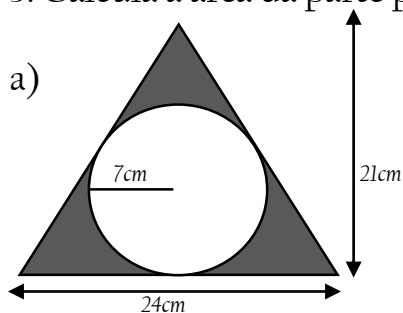
Data: 19/10/ 2018

1. Resolve:

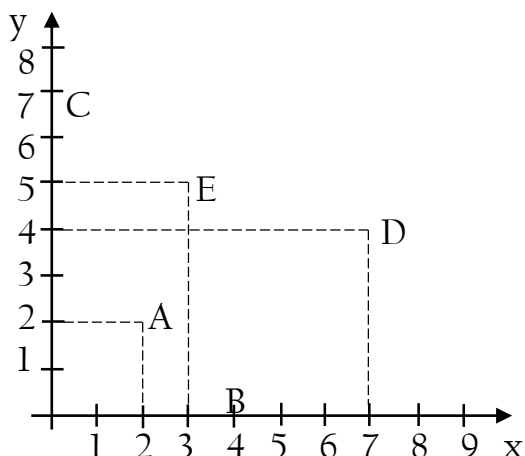
A Amélia está ler um livro de 200 páginas e já leu $\frac{2}{5}$. Quantas páginas faltam para acabar de ler o livro?

2. Um triângulo tem de base 45cm. Sabendo que a sua altura é $\frac{1}{5}$ da medida da base. Determina a sua área.

3. Calcula a área da parte pintada.



4. Indica as coordenadas dos pontos representados no referencial seguinte:



Boa exercitação!